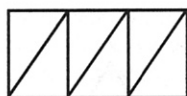
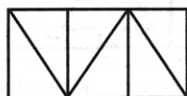
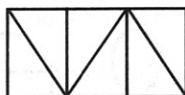
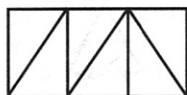


Szukamy dwóch jednakowych wzorów

Poniżej znajdują się wzory geometryczne (łatwiejsze i trudniejsze).



ZADANIE:

- Znajdź dla każdego wzoru z lewej strony jego odpowiednik z prawej, pokoloruj każdą parę w ten sam sposób.